

01-11.

Всероссийская олимпиада школьников по географии  
Алтайский край  
Муниципальный этап, 2020-2021 г.г.

11 класс

Общее время для выполнения заданий муниципального этапа Олимпиады составляет около 3 астрономических часа.

Сумма баллов за все правильные ответы теоретического раунда – 50 баллов.

Сумма баллов за все правильные ответы тестового раунда – 20 баллов.

Общая сумма баллов за 2 раунда – 70 баллов.

Использование любых справочных материалов и карт не допускается.

Для ответов на вопросы по карте можно пользоваться линейкой, транспортиром, простым калькулятором.

Ответы на вопросы теоретического и тестового раундов записываются на листах для ответа и сдаются дежурному по аудитории.

ФИО ЧЛЕНОВ ЖЮРИ:

Давлен Е. А.

Колесова В. А.

Чуванова М. В.

СВЕДЕНИЕ ОБ УЧАСТНИКЕ ОЛИМПИАДЫ

ФАМИЛИЯ	
ИМЯ	
ОТЧЕСТВО	
КЛАСС	11 класс
ШКОЛА	
КРАЙ, РАЙОН, ГОРОД / ПОСЕЛОК /СЕЛО	Алтайский край,

ТЕОРЕТИЧЕСКИЙ РАУНД 215.

ТЕСТОВЫЙ РАУНД 85

ОБЩЕЕ КОЛИЧЕСТВО БАЛЛОВ 295.



**Задача 4.** Прочитайте внимательно текст. В указанных скобках запишите правильный ответ.

А) Эта развитая страна ( Индия ) очень долго была колонией европейского государства ( Великобритания ).

Б) Два главных города страны ( ) и ( ), сейчас являются городами-миллионерами. Они «долго спорили» за столичный статус. В каждом из городов проходила олимпиада.

В) В итоге, между ними была построена другая столица ( ), ныне небольшой по населению город.

Г) Благодаря тому, что месторождения данного вида природного ресурса ( Нефть ) располагаются близко к морским портам, эта страна является главным конкурентом по экспорту современной Российской Федерации.

Д) Государство более 100 лет является одним из самых крупнейших экспортеров в мире этого важного сельскохозяйственного товара животноводства ( ). Сейчас экспортируется порядка 90% этого товара.

Е) В стране очень много этнических групп местного населения, хотя численность невелика. Их, как правило, называют одним термином ( ).

И) В мире из агропромышленных товаров экспорта известен продукт ( ), который относительно недавно стал экспортным товаром страны благодаря агроклиматическим особенностям, которые такие же, как в Европе (главном мировом центре). По похожим причинам в мировую двадцатку – тридцатку экспортеров данного товара вошли Аргентина, Чили, ЮАР, США (особенно штат Калифорния).

К) Одним из главных туристических объектов страны и сакральным местом для местного населения является гора или

скальное образование ( ) в центре этого государства.

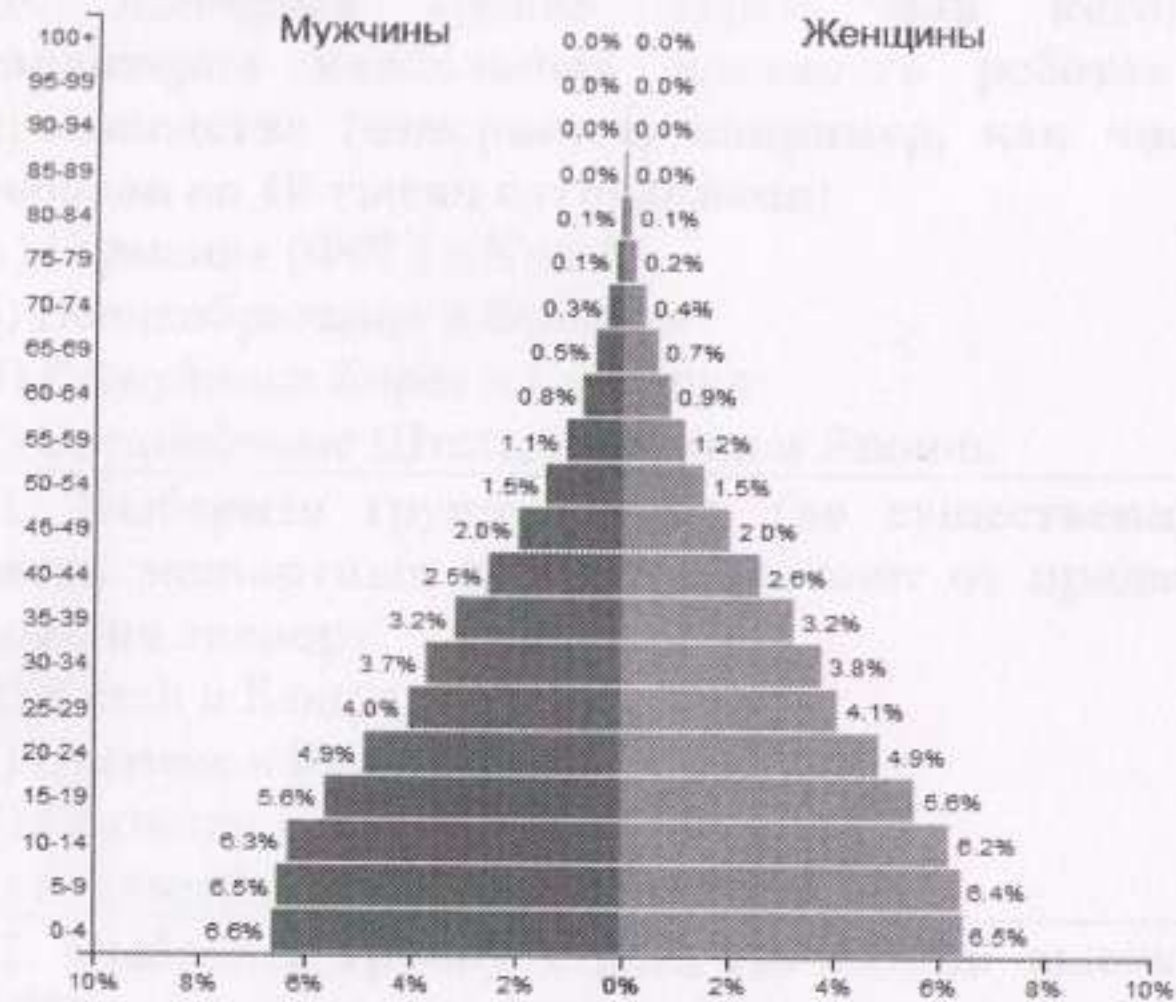
**Задача 5.** В последние 25 лет в Российской Федерации отчетливо проявляется следующая миграционная тенденция. Наибольшая миграция населения после Москвы и Московской области наблюдается из большинства регионов России (особенно из северных и восточных) в Санкт-Петербург и его агломерацию. Напишите 10 основных причин, которые способствуют данному перемещению населения.

№ п/п	Причины, способствующие перемещению населения в Санкт-Петербург и его агломерацию
1.	Нехватка рабочих мест
2.	Смена климата
3.	Экономическая ситуация
4.	Истощение почвы
5.	Экологическая проблема
6.	
7.	
8.	
9.	
10.	

### ТЕСТОВЫЙ РАУНД 11 КЛАСС

Вопрос	Ответ										
<p><b>1. Выберите одну группу стран мира, где самая высокая плотность населения.</b></p> <p>А) Таджикистан и Турция                      Б) Бельгия и Великобритания                      В) Румыния и Черногория                      Г) Бразилия и Латвия</p>	<p><b>A</b></p> <p style="color: red; font-size: 2em;">—</p>										
<p><b>2. Выберите вариант ответа, где в одной из этих агломераций плотность населения наибольшая.</b></p> <p>А) Сан-Паулу                      Б) Мумбаи                      В) Шанхай                      Г) Нью-Йорк</p>	<p><b>B</b></p> <p style="color: red; font-size: 2em;">—</p>										
<p><b>3. Выберите правильный вариант ответа. Этот город образует сейчас самую наименьшую по численности населения агломерацию из представленных в этом списке.</b></p> <p>А) Лондон                      Б) Джакарта                      В) Карачи                      Г) Манила</p>	<p><b>B</b></p> <p style="color: red; font-size: 2em;">—</p>										
<p><b>4. Как известно, в отдельных странах мира, их столицы несколько раз были перенесены из одного города в другой или переименованы. Установите соответствие между бывшими и современными столицами стран мира из предложенного списка. Запишите в ответ буквы, расположив их в порядке, соответствующем цифрам.</b></p> <table border="1" style="width: 100%; border-collapse: collapse; margin-top: 10px;"> <thead> <tr> <th style="width: 50%;">Бывшая столица</th> <th style="width: 50%;">Современная столица</th> </tr> </thead> <tbody> <tr> <td>1) Салвадор</td> <td>А) Варшава</td> </tr> <tr> <td>2) Тронхейм</td> <td>Б) Осло</td> </tr> <tr> <td>3) Краков</td> <td>В) Бразилиа</td> </tr> <tr> <td>4) Астана</td> <td>Г) Нур-Султан</td> </tr> </tbody> </table>	Бывшая столица	Современная столица	1) Салвадор	А) Варшава	2) Тронхейм	Б) Осло	3) Краков	В) Бразилиа	4) Астана	Г) Нур-Султан	<p style="color: red; font-size: 2em;">+</p> <p style="margin-top: 20px;">1-В 2-Б 3-А 4-Г</p>
Бывшая столица	Современная столица										
1) Салвадор	А) Варшава										
2) Тронхейм	Б) Осло										
3) Краков	В) Бразилиа										
4) Астана	Г) Нур-Султан										

**5. Рассмотрите внимательно рисунок. Для какой страны характерна представленная половозрастная пирамида?**



- А) Белоруссия  
 Б) Кения  
 В) Аргентина  
 Г) Франция

**6. Какое из утверждений «Вид ресурса – Месторождение – Страна» является верным?**

- А) железная руда – Керченское – Российская Федерация  
 Б) природный газ – Прадхо-Бей – Канада  
 В) железная руда – Экибастузский бассейн – Казахстан  
 Г) медная руда – Чукикамата – Китай

**7. Производство этого текстильного волокна в последние годы быстро растет. Упаковка из него**

B



+

A



+

<p>получает все большую популярность в пищевой промышленности и торговле как более экологичная альтернатива полиэтиленовым пакетам.</p> <p>Выберите верный вариант сочетания «Сельскохозяйственная культура для производства текстильного волокна – Крупнейший производитель (на уровне страны)».</p> <p>А) джут – Индия          Б) хлопчатник – Китай          В) лён – Российская Федерация          Г) кенаф – Индия</p>	<p>Б</p> <p>—</p>
<p>8. В каком из вариантов верно указано сочетание «Машиностроительная компания – Страна – Основные виды продукции»?</p> <p>А) General Electric – Соединённые Штаты Америки – железнодорожные локомотивы, энергетические установки, авиационные двигатели, медицинское оборудование, бытовая и осветительная техника          Б) Toyota Motor Corporation – Япония – автомобили, энергетические установки, газовые турбины, авиационные двигатели, медицинское оборудование          В) Daimler AG – Франция – легковые и грузовые автомобили          Г) Siemens AG – Германия – медицинское оборудование, бытовая и осветительная техника, легковые и грузовые автомобили</p>	<p>Б</p> <p>—</p>
<p>9. Выберите правильный ответ.</p> <p>«Эта страна занимает первое место в мировом производстве электроэнергии. В структуре производства электроэнергии доля ТЭС составляет – 68,9%, ГЭС – 26,4%, АЭС и других источников – 4,7%».</p> <p>А) Российская Федерация</p>	


<p>Б) Норвегия          В) Япония          Г) Китай</p>	<p>Г</p> <p>+</p>
<p>10. Выберите группу стран, для которой характерна наибольшая плотность роботов в производстве (измеряется, например, как число роботов на 10 тысяч сотрудников).</p> <p>А) Германия (ФРГ) и Китай          Б) Великобритания и Франция          В) Республика Корея и Сингапур          Г) Соединённые Штаты Америки и Япония</p>	<p>Г</p> <p>—</p>
<p>11. Выберите группу стран, где существенную часть экспортных доходов получают от продажи кофе на экспорт.</p> <p>А) Китай и Бангладеш          Б) Вьетнам и Колумбия          В) Пакистан и Австралия          Г) Аргентина и Саудовская Аравия</p>	<p>Б</p> <p>+</p>
<p>12. Выберите группу стран, где самый высокий ВВП на душу населения.</p> <p>А) Российская Федерация и Италия          Б) Австралия и Объединённые Арабские Эмираты          В) Саудовская Аравия и Иран          Г) Испания и Республика Корея</p>	<p>Б</p> <p>+</p>
<p>13. В каком из указанных вариантов сочетание «Регион мира – Экологическая проблема» является верным?</p> <p>А) Северная Европа – выпадение кислотных осадков, нефтяное загрязнение акватории морей          Б) Южная Азия – разрушение берегов вследствие подтопления и поднятия уровня моря          В) Восточная Африка – промышленно-городское загрязнение атмосферы, деградация пастбищ          Г) Австралия – облесение, выпадение кислотных</p>	<p>Г</p> <p>—</p>

дождей		
14. В каком из указанных вариантов сочетание «Город – Достопримечательность» является верным? А) Барселона – Саграда Фамилия Б) Нью-Дели – Тадж-Махал В) Тель-Авив – Стена Плача Г) Вена – Елисейские поля		
15. Установите соответствие между изображением герба страны и ее названием (географическим наименованием). Запишите в ответ буквы, расположив их в порядке, соответствующем цифрам.		
Номер	Герб страны	Название (географическое наименование) страны
1		А) Мексика
2		Б) Антигуа и Барбуда

A +

3		В) Непал	1-Б 2-Г 3-В 4-А
4		Г) Гаити	+ 1-В 2-А 3-Б 4-Г
16. Всё большую популярность в настоящее время получает экологический туризм. Установите соответствие между направлением экологического туризма и регионами мира, в которых оно развивается. Запишите в ответ буквы, расположив их в порядке, соответствующем цифрам.			
Направление экологического туризма		Регионы мира	
1) «бёрдвотчинг»		А) тропа инков в Перу	
2) треккинг		Б) дождевые леса Коста-Рика	
3) туры по внутренним водам		В) путешествие верхом по диким горам Сьерра-Невада	


4) путешествие на лошадях	Г) Гранд Каньон, Карелия, Алтай	
<b>17. Выберите группу стран, где больше всего продают новых автомобилей (в современный период).</b> А) Российская Федерация и Республика Корея Б) Индия и Великобритания В) Бразилия и Канада Г) Индонезия и Испания		А ✓
<b>18. Укажите из этого списка одну страну, которая не имеет выхода к морю.</b> А) Мавритания Б) Никарагуа В) Сербия Г) Корейская Народная Демократическая Республика		Б ✓
<b>19. Установите соответствие между названием месторождения и страной, в которой оно расположено.</b> Запишите в ответ буквы, расположив их в порядке, соответствующем цифрам.		1-Г 2-Б 3-В 4-А ✓
Месторождение	Страна	
1) Криворожское	А) Казахстан	
2) Карагандинское	Б) Узбекистан	
3) Нерюнгри	В) Украина	
4) Учкудук	Г) Российская Федерация	
<b>20. Установите соответствие между описанием (характеристикой) муниципального района Алтайского края и цифрой, которой он изображен на картосхеме.</b> Запишите в ответ цифры (номера районов), расположив их в порядке, соответствующем буквам.		



1-В  
2-А  
3-Б  
4-Г ✓

Описание (характеристика) муниципального района	Цифра на картосхеме
А) В современных границах этот район был сформирован в 1925 г. Расположен между двумя ленточными борами – Барнаульским и Касмалинским. В XVIII-XIX вв. один из населённых пунктов являлся важным центром металлургии на Алтае. Здесь была организована Козьмо-Демьянская ярмарка, одна из старейших в Сибири.	2
Б) До 1933 г. этот район назывался Большереченским. Рельеф территории холмистый. От центральной части района до его западных границ расположены террасы реки Обь. Основное направление экономики – сельское хозяйство, а также заготовка и переработка древесины.	1

<p>В) По территории района протекают более 20 рек. Наиболее крупные из них – Бия, Неня. Основное направление экономики – сельское хозяйство. На территории района расположен угольный разрез. В районе проживают представители различных национальностей, где большинство составляют – русские, кумандинцы, немцы, украинцы, мордва, татары.</p>	3	
<p>Г) Этот район ранее назывался Старобардинским. Его территория расположена в междуречье Бии и Катунь в пределах холмисто-увалистой равнины. В районе проживают представители различных национальностей, где большинство составляют – русские, кумандинцы, немцы, украинцы, белорусы.</p>	4	



СОВЕТ РАЙОНА  
 ИСТОРИКО-ПАМЯТНИКОВ  
 РАЙОНА